

Küresteki Hayvanlar	
Hayvanlar	Sayısı
Tavuk	14
Horoz	8
Ördek
Hindi

Aşağıdaki 1. 2. ve 3. soruları yukarıdaki grafiğe göre cevaplayınız.

1 Hindilerin sayısı tavukların sayısından 7 eksik olduğuna göre küreste kaç tane hindi vardır?

- (A) 7 (B) 8 (C) 9





2 Ördeklerin sayısı horozların sayısından 5 fazla olduğuna göre küreste kaç tane civciv vardır?

- (A) 9 (B) 11 (C) 13

3 Küresteki ördek ve hindilerin toplam sayısı kaçtır?

- (A) 20 (B) 18 (C) 17

Öğrencilerin Sevdği Dondurma

Dondurma	Öğrenci Sayısı
Çikolatalı	
Muzlu	
Sade	
Çilekli	

Aşağıdaki 4. 5. ve 6. soruları yukarıdaki grafiğe göre cevaplayınız.

4 Sınıfımızda kaç öğrenci muzlu dondurma sevmektedir?

- (A) 2 (B) 4 (C) 6

5 Çikolatalı ve çilekli dondurma seven kızların sayısı kaçtır?

- (A) 7 (B) 6 (C) 5

6 Sınıftaki kızların sayısı erkeklerin sayısından kaç fazladır?

- (A) 4 (B) 5 (C) 6

Alper'in Beslenme Tablosu

Günler	Yiyecekler
Pazartesi	Kek, süt, peynir
Salı	Tost, ayran, yumurta
Çarşamba	Simit, ayran, zeytin
Perşembe	Tost, peynir, ayran
Cuma	Kek, yumurta, süt

Aşağıdaki 7. 8. ve 9. soruları yukarıdaki grafiğe göre cevaplayınız.

7 Alper hangi günlerde tost getirmiştir?

- ☐ A Salı ve çarşamba
☐ B Pazartesi, perşembe ve cuma
☐ C Salı ve perşembe

8 Alper bu hafta en çok hangi besini getirmiştir?

- ☐ A Ayran ☐ B Yumurta ☐ C Tost

9 Yukarıdaki tabloya göre hangi bilgi yanlıştır?

- ☐ A Alper iki gün süt getirdi.
☐ B Alper bir gün meyve suyu getirdi.
☐ C Alper cuma günü süt getirdi.

Nisan Ayı Hava Durumu

Pzt	Salı	Çar	Per	Cm	Cmt	Pz

Aşağıdaki 10. 11. ve 12. soruları yukarıdaki grafiğe göre cevaplayınız.

10 Nisan ayında havalarda kaç gün yağmurlu geçmiştir?

- ☐ A 9 ☐ B 10 ☐ C 12

11 Nisan ayında Salı günlerinde en çok hangi hava durumu yaşanmıştır?

- ☐ A Yağmurlu ☐ B Güneşli ☐ C Bulutlu

12 Aşağıdaki bilgilerden hangisi yukarıdaki tabloya göre yanlıştır?

- ☐ A Çarşamba günleri hep yağmurlu geçmiştir.
☐ B En çok yağmurlu gün olmuştur.
☐ C Nisan ayında 31 gün vardır.